



AULA 1 – FRENTE 1

1 A progressão geométrica $(a_1, a_2, 4, \dots)$ é tal que $a_5 \cdot a_8 = 64$. Calcule o valor do décimo termo desta progressão.

$$a_{10} = 16$$

2 Numa progressão geométrica sabe-se que $a_2 \cdot a_5 = 243$. Então podemos afirmar que $a_3 \cdot a_4$ é igual a:

- a) 27 b) 81 **c) 243** d) 729 e) 849

3 O produto dos 8 primeiros termos da progressão geométrica $(1, 3, 9, \dots)$ é igual a:

- a) 3^4 b) 3^7 c) 3^{11} d) 3^{21} **e) 3^{28}**

4 O produto dos 10 primeiros termos da progressão geométrica $(-1, -2, -4, \dots)$ é igual a:

- a) -2^{45} **b) 2^{45}** c) -2^{14} d) 2^{14} e) 2^{19}

5 O produto dos 8 primeiros termos da progressão geométrica $(2, 4, 8, \dots)$ é:

- a) 2^{33} b) 2^{34} c) 2^{35} **d) 2^{36}** e) 2^{37}

Exercícios-Tarefa

1 A progressão geométrica $(a_1, a_2, a_3, 5, \dots)$ é tal que $a_2 \cdot a_9 = 60$. Calcule o sétimo termo desta progressão.

Resolução

$$a_4 \cdot a_7 = a_2 \cdot a_9$$

$$a_4 \cdot a_7 = 60$$

$$5 \cdot a_7 = 60$$

$$a_7 = 12$$

Resposta: $a_7 = 12$

AULA 2 – FRENTE 2

2 O produto dos 12 primeiros termos da progressão geométrica (1, 2, 4, ...) é igual a:

- a) 2^{11} b) 2^{12} c) 2^{66} d) 2^{100} e) 2^{132}

Resolução:

$$a_{12} = a_1 \cdot q^{11} |P_{12}| = \sqrt{(a_1 \cdot a_{12})^{12}}$$

$$a_{12} = 1 \cdot 2^{11} \quad |P_{12}| = \sqrt{(1 \cdot 2^{11})^{12}}$$

$$a_{12} = 2^{11} \quad |P_{12}| = (2^{11})^6$$

$$|P_{12}| = 2^{66} \Rightarrow P_{12} = 2^{66}$$

Resposta: C

3 O produto dos 15 primeiros termos da progressão geométrica estritamente crescente em que $a_1 = -4$ e $a_{15} = -\frac{1}{4}$ é:

- a) -1 b) 1 c) 2^{15} d) -2^{15} e) 2^{30}

Resolução:

$$|P_{15}| = \sqrt{(a_1 \cdot a_{15})^{15}}$$

$$|P_{15}| = \sqrt{\left[(-4) \cdot \left(-\frac{1}{4}\right)\right]^{15}}$$

$$|P_{15}| = \sqrt{(1)^{15}}$$

$$|P_{15}| = 1 \Rightarrow P_{15} = -1$$

Resposta: A

4 Numa progressão geométrica sabe-se que $a_2 \cdot a_6 = 2^{-6}$. Então podemos afirmar que $a_3 \cdot a_5$ é igual a:

- a) 2^{-4} b) 2^{-5} c) 2^{-6} d) 2^{-7} e) 2^{-8}

Resolução:

$$a_2 \cdot a_6 = a_3 \cdot a_5$$

$$2^{-6} = a_3 \cdot a_5$$

Resposta: C

5 O produto dos 10 primeiros termos da progressão geométrica (1, 3, 9, ...) é:

- a) 3^{45} b) 3^{44} c) 3^{43} d) 3^{42} e) 3^{41}

Resolução:

$$a_{10} = a_1 \cdot q^9 |P_{10}| = \sqrt{(a_1 \cdot a_{10})^{10}}$$

$$a_{10} = 1 \cdot 3^9 \quad |P_{10}| = \sqrt{(1 \cdot 3^9)^{10}}$$

$$a_{10} = 3^9 \quad |P_{10}| = (3^9)^5$$

$$|P_{10}| = 3^{45} \Rightarrow P_{10} = 3^{45}$$

Resposta: A

2 – **OBJETIVO**

1 A soma dos 11 primeiros termos da progressão geométrica (2, 4, 8, ...) é:

- a) 4094 b) 3012 c) 2048 d) 1024 e) 1012

2 Calcule a soma dos 8 primeiros termos da progressão geométrica $\left(1, \frac{1}{2}, \frac{1}{4}, \dots\right)$

$$S_8 = \frac{255}{128}$$

3 Quantos termos da progressão geométrica (1, 4, 16, ...) foram somados para obter 1365?

- a) 4 b) 5 c) 6 d) 7 e) 8

4 A soma dos infinitos termos da P.G. $\left(\frac{1}{3}, \frac{1}{6}, \frac{1}{12}, \dots\right)$ é igual a:

- a) 2 b) $\frac{1}{3}$ c) $\frac{2}{3}$ d) $\frac{1}{6}$ e) 1

5 Resolvendo a equação $x + x^2 + x^3 + x^4 + \dots = 7$, obtemos:

- a) $\frac{7}{8}$ b) $\frac{1}{7}$ c) $\frac{1}{8}$ d) $\frac{2}{7}$ e) $\frac{3}{7}$

6 Se x for um número real positivo e se valer a igualdade $1 + x + x^2 + x^3 + \dots = 3$, então o valor de x será:

- a) 1 b) 2 c) $\frac{1}{3}$ d) $\frac{3}{2}$ e) $\frac{2}{3}$

Exercícios-Tarefa

1 Calcule a soma dos 11 primeiros termos da progressão geométrica (1, 2, 4, ...)

Resolução:

$$S_{11} = \frac{a_1 \cdot (q^{11} - 1)}{q - 1}$$

$$S_{11} = \frac{1 \cdot (2^{11} - 1)}{2 - 1}$$

$$S_{11} = 2048 - 1$$

$$S_{11} = 2047$$

Resposta: $S_{11} = 2047$

2 A soma dos 7 primeiros termos da progressão geométrica (1, 3, 9, ...) é:

- a) 1024 b) 1093 c) 2048 d) 2096 e) 3123

Resolução:

$$S_7 = \frac{a_1 \cdot (q^7 - 1)}{q - 1}$$

$$S_7 = \frac{1 \cdot (3^7 - 1)}{3 - 1}$$

$$S_7 = \frac{2187 - 1}{2}$$

$$S_7 = \frac{2186}{2} \Rightarrow S_7 = 1093$$

Resposta: B

3 Quantos termos da progressão geométrica (1, 2, 4, ...) devemos adicionar para que a soma seja 127?

Resolução:

$$S_n = \frac{a_1 \cdot (q^n - 1)}{q - 1} \Rightarrow 127 = \frac{1 \cdot (2^n - 1)}{2 - 1}$$

$$127 = 2^n - 1 \Rightarrow 128 = 2^n \Rightarrow n = 7$$

Resposta: 7 termos

4 Numa progressão geométrica tem-se o primeiro termo igual a 2 e a razão igual a 3. A soma dos 7 primeiros termos é igual a:

- a) 1023 b) 1225 c) 2186 d) 2194 e) 2236

Resolução:

$$S_7 = \frac{a_1 \cdot (q^7 - 1)}{q - 1} \Rightarrow S_7 = \frac{2 \cdot (3^7 - 1)}{3 - 1}$$

$$S_7 = 3^7 - 1 = 2186$$

Resposta: C

5 A soma dos infinitos termos da progressão geométrica $\left(-1, -\frac{1}{4}, -\frac{1}{16}, \dots\right)$ é:

- a) $-\frac{4}{3}$ b) $-\frac{3}{4}$ c) $\frac{3}{4}$ d) $\frac{4}{3}$ e) 1

Resolução:

$$S_{\infty} = \frac{a_1}{1-q} \Rightarrow S_{\infty} = \frac{-1}{1-\frac{1}{4}}$$

$$S_{\infty} = \frac{-1}{\frac{3}{4}} \Rightarrow S_{\infty} = -1 \cdot \frac{4}{3} = -\frac{4}{3}$$

Resposta: A

6 Na equação $x + x^2 + x^3 + x^4 + \dots = \frac{7}{3}$, obtemos para x o valor:

- a) $\frac{10}{7}$ b) $\frac{7}{10}$ c) $\frac{3}{10}$ d) $\frac{10}{3}$ e) $\frac{3}{7}$

Resolução:

$$S_{\infty} = \frac{a_1}{1-q} \Rightarrow \frac{7}{3} = \frac{x}{1-x} \Rightarrow 3x = 7 \cdot (1-x) \Rightarrow 3x = 7 - 7x$$

$$10x = 7 \Rightarrow x = \frac{7}{10}$$

Resposta: B

7 Se x for um número real positivo e se valer a igualdade $1 + x + x^2 + x^3 + \dots = 20$, então o valor de x será:

- a) $\frac{20}{19}$ b) $\frac{19}{20}$ c) $\frac{21}{20}$ d) $\frac{20}{21}$ e) $\frac{19}{21}$

Resolução:

$$S_{\infty} = \frac{a_1}{1-q} \Rightarrow 20 = \frac{1}{1-x} \Rightarrow 1 = 20 \cdot (1-x) \Rightarrow 1 = 20 - 20x$$

$$20x = 20 - 1 \Rightarrow 20x = 19 \Rightarrow x = \frac{19}{20}$$

Resposta: B

1 Um automóvel com velocidade de 60 km/h faz o percurso entre as cidades A e B em 3 horas. Quanto tempo levará se fizer o mesmo percurso a uma velocidade de 90 km/h?

2 horas

2 Se 30 operários, trabalhando 12 horas por dia, durante um certo número de dias, abriram um túnel de 180 m de comprimento, quantos operários serão necessários para abrir 240 m do mesmo túnel, durante o mesmo número de dias, trabalhando 10 horas por dia?

48 operários

3 Um quadro no valor de R\$ 1200,00 foi vendido por R\$ 1380,00. Neste caso podemos afirmar que o lucro, em relação ao preço de custo, foi de:

- a) 14% **b) 15%** c) 18% d) 19% e) 20%

4 Um valor de 80 após um aumento de 35% passa a ser:

- a) 108 b) 109 c) 110 d) 111 e) 112

5 Um valor de 80 após um decréscimo de 35% passa a ser:

- a) 50 b) 51 c) 52 d) 53 e) 54

6 Uma mercadoria teve um aumento de 20% e, logo depois, um aumento de 30% sobre isso. Para encontrar o preço da mercadoria após os aumentos, basta multiplicar o preço inicial por:

- a) 1,20 b) 1,30 c) 1,50 d) 1,52 e) 1,56

7 Uma mercadoria que custava R\$ 12,50 teve um aumento e passou a custar R\$ 13,50. Esse aumento corresponde a:

- a) 1% b) 10% c) 12,5% d) 8% e) 10,8%

Exercícios-Tarefa

1 Um ciclista percorre 32 km em 2 horas. Supondo que a velocidade permaneça constante, ele percorrerá 48 km em:

- a) 2,5 horas d) 4 horas
b) 3 horas e) 4,5 horas
c) 3,5 horas

Resolução:

32 km — 2 horas

48 km — x

diretamente proporcional

$$\frac{32}{48} = \frac{2}{x} \Rightarrow 32x = 2 \cdot 48 \Rightarrow 16x = 48 \Rightarrow x = 3 \text{ horas}$$

Resposta: B

2 Com 16 máquinas de costura aprontam-se 720 uniformes em 6 dias de trabalho. Quantas máquinas de costura serão necessárias para confeccionar 2160 uniformes em 24 dias?

- a) 20 b) 18 c) 15 d) 12 e) 10

Resolução:

16 máquinas 720 uniformes 6 dias

x 2160 uniformes 24 dias

_____ diretamente

_____ inversamente

$$\frac{16}{x} = \frac{720}{2160} \cdot \frac{24}{6}$$

$$720 \cdot 24x = 16 \cdot 2160 \cdot 6$$

$$720 \cdot 4x = 16 \cdot 2160$$

$$720x = 4 \cdot 2160$$

$$720x = 8640$$

$$x = 12 \text{ máquinas}$$

Resposta: D

AULA 4 – FRENTE 2

3 Um valor de 70, após um decréscimo de 20%, passa a ser:

- a) 45 b) 50 c) 54 d) 56 e) 62

Resolução:

Decréscimo de 20% = $100\% - 20\% = 80\% = 0,80$
 $0,80 \cdot 70 = 56$

Resposta: D

4 Um valor de 70, após um aumento de 20%, passa a ser:

- a) 84 b) 86 c) 88 d) 90 e) 93

Resolução:

Aumento de 20% $\Rightarrow 100\% + 20\% = 120\% = 1,20$
 $1,20 \cdot 70 = 84$

Resposta: A

5 Uma mercadoria teve um aumento de 10% e, logo depois, um aumento de 50% sobre isso. Para encontrar o preço da mercadoria após os aumentos, basta multiplicar o preço inicial por:

- a) 1,45 b) 1,56 c) 1,60 d) 1,65 e) 1,72

Resolução:

Aumento de 10% $\Rightarrow 100\% + 10\% = 110\% = 1,10$
Aumento de 50% $\Rightarrow 100\% + 50\% = 150\% = 1,50$
 $1,1 \cdot 1,5 = 1,65$

Resposta: D

6 Um carro foi comprado por R\$ 25000,00 e vendido com decréscimo de 40%. Qual foi o preço da venda?

Resolução:

Decréscimo de 40% $\Rightarrow 100\% - 40\% = 60\% = 0,60$
 $0,6 \cdot 25000 = 15000 \Rightarrow \text{R\$ } 15000,00$

Resposta: R\$15000,00

1 O valor de $(20\%)^2 + \sqrt{81\%} - 0,60$ é igual a:

- a) 20% b) 24% c) 32% **(d)** 34% e) 48%

2 Qual o percentual que 40 representa num total de 200?

20%

3 35% da terça parte de 2100 é igual a:

- (a)** 245 b) 275 c) 290 d) 310 e) 350

4 O valor de $\frac{80\%}{2\%}$ é igual a:

- a) 0,4% b) 4% c) 40% d) 400% **(e)** 4000%

5 Determine os juros simples produzidos por um capital de R\$ 30000,00 empregado à taxa de 20% ao ano durante 6 anos.

R\$ 36000,00

6 Um capital de R\$ 12000,00 rendeu em 4 anos a importância de R\$ 2400,00. A taxa anual, supondo que a aplicação foi feita a juros simples, é igual a:

- a) 3% **b) 5%** c) 7% d) 10% e) 15%

7 Um capital **C** aplicado a juros simples, a taxa de 3% ao mês, produz R\$ 4500,00 de juros em 10 meses. O valor de **C** é:

- a) R\$ 9000,00 d) R\$ 18000,00
b) R\$ 12000,00 e) R\$ 18500,00
c) R\$ 15000,00

Exercícios-Tarefa

1 25% de 3000 é igual a:

- a) 750 b) 760 c) 770 d) 780 e) 790

Resolução:

$$25\% \text{ de } 3000 = \frac{25}{100} \cdot 3000 = 750$$

Resposta: A

2 O valor de $(10\%)^2$ é:

- a) 1000% b) 100% c) 10% d) 1% e) 0,1%

Resolução:

$$(10\%)^2 = \left(\frac{10}{100}\right)^2 = \left(\frac{1}{10}\right)^2 = \frac{1}{100} = 1\%$$

Resposta: D

3 O valor de $\sqrt{49\%} - (30\%) + 0,15$ é igual a:

- a) 20% b) 33% c) 55% d) 57% e) 76%

Resolução:

$$\sqrt{49\%} = \sqrt{\frac{49}{100}} = \frac{7}{10} \cdot \frac{10}{10} = \frac{70}{100} = 70\%$$

$$0,15 = \frac{15}{100} = 15\%$$

$$\sqrt{49\%} - (30\%) + 0,15 = 70\% - (30\%) + 15\% = 55\%$$

Resposta: C

4 Qual o percentual que 45 representa num total de 300?

Resolução:

$$300 \text{ ——— } 100\%$$

$$45 \text{ ——— } x$$

$$300x = 45 \cdot 100\%$$

$$3x = 45\%$$

$$x = 15\%$$

Resposta: 15%

5 Determine os juros simples produzidos por um capital de R\$ 12000,00 empregado à taxa de 10% ao ano durante 5 anos.

Resolução:

$$J = \frac{C \cdot i \cdot t}{100}$$

$$J = \frac{12000 \cdot 10 \cdot 5}{100}$$

$$J = 1200 \cdot 5$$

$$J = 6000 \Rightarrow \text{R\$ } 6000,00$$

Resposta: R\$ 6000,00

6 Qual é o tempo em que o capital de R\$ 5000,00, a 12% ao ano, rende, a juros simples, a quantia de R\$ 3600,00?

Resolução:

$$J = \frac{C \cdot i \cdot t}{100}$$

$$3600 = \frac{5000 \cdot 12 \cdot t}{100}$$

$$3600 = 50 \cdot 12 \cdot t$$

$$3600 = 600t$$

$$t = \frac{3600}{600}$$

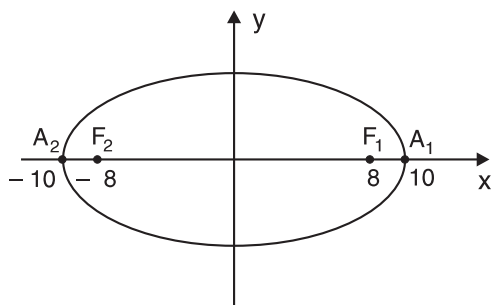
$$t = 6$$

Resposta: 6 anos



FRENTE 1 – AULA 1

1 Considere a elipse:



Com os dados da figura, determine:

a) o eixo maior

20

b) o eixo menor

12

c) a distância focal

16

d) a excentricidade

$$e = \frac{4}{5} = 0,8$$

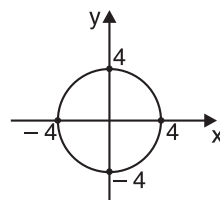
e) a equação da elipse

$$\frac{x^2}{100} + \frac{y^2}{36} = 1$$

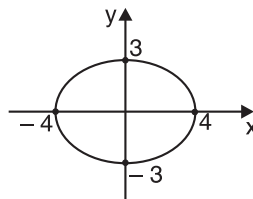
2 A figura que melhor representa a cônica de equação

$$\frac{y^2}{16} + \frac{x^2}{9} = 1 \text{ é:}$$

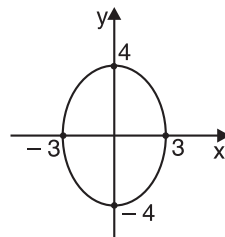
a)



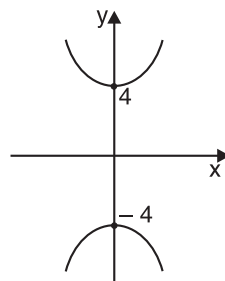
b)



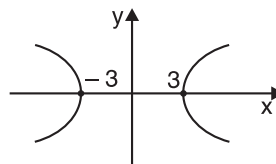
c)



d)



e)



3 Determine a equação da elipse cujos focos são (5; 0) e (-5; 0) e o eixo maior é igual a 12.

$$\frac{x^2}{36} + \frac{y^2}{11} = 1$$

4 A equação da elipse cuja distância focal mede 12 e cujo eixo maior vertical é igual a $6\sqrt{5}$ é:

a) $\frac{x^2}{45} + \frac{y^2}{9} = 1$

d) $\frac{y^2}{45} + \frac{x^2}{9} = 1$

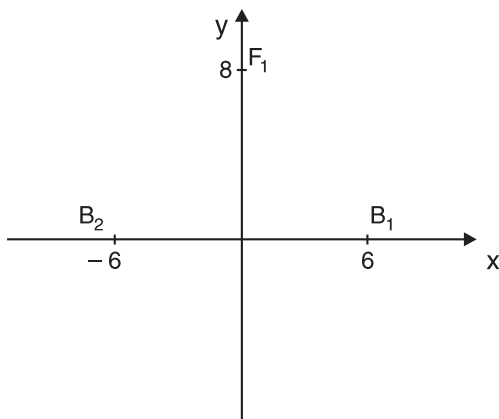
b) $\frac{x^2}{45} - \frac{y^2}{9} = 1$

e) $\frac{x^2}{25} + \frac{y^2}{9} = 1$

c) $\frac{y^2}{45} - \frac{x^2}{9} = 1$

Exercícios-Tarefa

1 Os pontos B_1 e B_2 , representados no sistema cartesiano, são os polos de uma elipse, e F_1 é um de seus focos.



Pede-se:

a) as coordenadas dos vértices

Resolução:

$$b = 6, f = 8 \text{ e } a^2 = b^2 + f^2 \Rightarrow a^2 = 6^2 + 8^2 \Rightarrow a = 10$$

Resposta:

$A_1(0; 10)$ e $A_2(0; -10)$

b) a medida do eixo maior (2a)

Resolução:

$$a = 10 \Rightarrow 2a = 20$$

Resposta:

$$2a = 20$$

c) as coordenadas dos focos

Resolução:

$$f = 8 \Rightarrow F_1(0; 8) \text{ e } F_2(0; -8)$$

Resposta:

$$F_1(0; 8) \text{ e } F_2(0; -8)$$

d) a distância focal (2f)

Resolução:

$$f = 8 \Rightarrow 2f = 16$$

Resposta:

$$2f = 16$$

e) a medida do eixo menor (2b)

Resolução:

$$b = 6 \Rightarrow 2b = 12$$

Resposta:

$$2b = 12$$

f) as coordenadas dos polos

Resolução:

$$b = 6 \Rightarrow B_1(6; 0) \text{ e } B_2(-6; 0)$$

Resposta:

$$B_1(6; 0) \text{ e } B_2(-6; 0)$$

g) a excentricidade da elipse

Resolução:

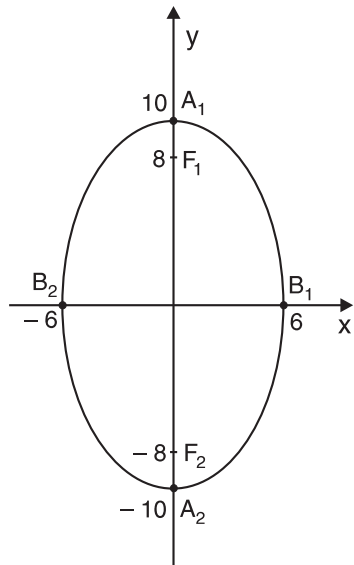
$$e = \frac{f}{a} \Rightarrow e = \frac{8}{10} = 0,8$$

Resposta:

$$e = \frac{4}{5} = 0,8$$

h) desenhar a elipse

Resposta:



i) a equação da elipse

Resolução:

I. Posição vertical, $a = 10$, $b = 6$ e $c(0; 0)$

$$\text{II. } \frac{x^2}{b^2} + \frac{y^2}{a^2} = 1 \Rightarrow \frac{x^2}{36} + \frac{y^2}{100} = 1$$

Resposta:

$$\frac{y^2}{100} + \frac{x^2}{36} = 1$$

2 Determine a equação da elipse cujos polos são $(0; 3)$ e $(0; -3)$ e o eixo maior horizontal é igual a 8.

Resolução:

I. $B_1, B_2 \in 0 y \Rightarrow$ horizontal, $C(0; 0)$ e $b = 3$

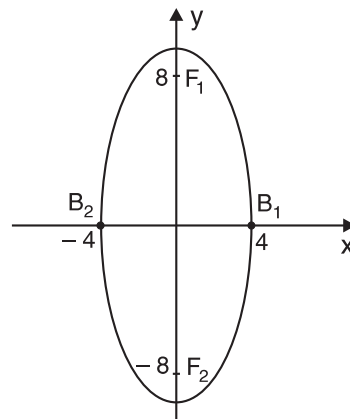
II. $2a = 8 \Rightarrow a = 4$

$$\text{III. } \frac{x^2}{a^2} + \frac{y^2}{b^2} = 1 \Rightarrow \frac{x^2}{16} + \frac{y^2}{9} = 1$$

Resposta:

$$\frac{x^2}{16} + \frac{y^2}{9} = 1$$

3



A equação da elipse acima é:

a) $\frac{x^2}{80} + \frac{y^2}{16} = 1$

d) $\frac{y^2}{80} + \frac{x^2}{16} = 1$

b) $\frac{x^2}{80} - \frac{y^2}{16} = 1$

e) $\frac{y^2}{64} + \frac{x^2}{16} = 1$

c) $\frac{y^2}{16} - \frac{x^2}{80} = 1$

Resolução:

I. $b = 4$, $f = 8$ e $a^2 = b^2 + f^2 \Rightarrow a^2 = 4^2 + 8^2 \Rightarrow a^2 = 80$

II. $C(0; 0)$ e vertical $\Rightarrow \frac{x^2}{b^2} + \frac{y^2}{a^2} = 1 \Rightarrow \frac{x^2}{16} + \frac{y^2}{80} = 1$

Resposta: D

4 Esboce o gráfico da elipse $\frac{x^2}{20} + \frac{y^2}{4} = 1$, indicando os polos, focos e vértices.

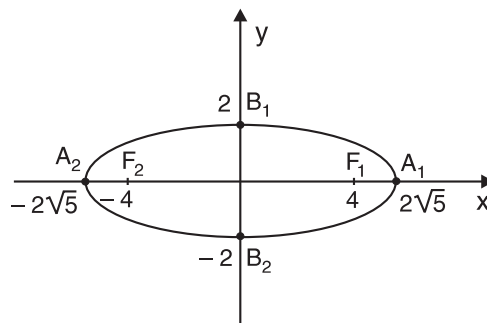
Resolução:

I. $a^2 = 20 \Rightarrow a = 2\sqrt{5}$ e $b^2 = 4 \Rightarrow b = 2$

II. $a^2 = b^2 + f^2 \Rightarrow 20 = 4 + f^2 \Rightarrow f = 4$

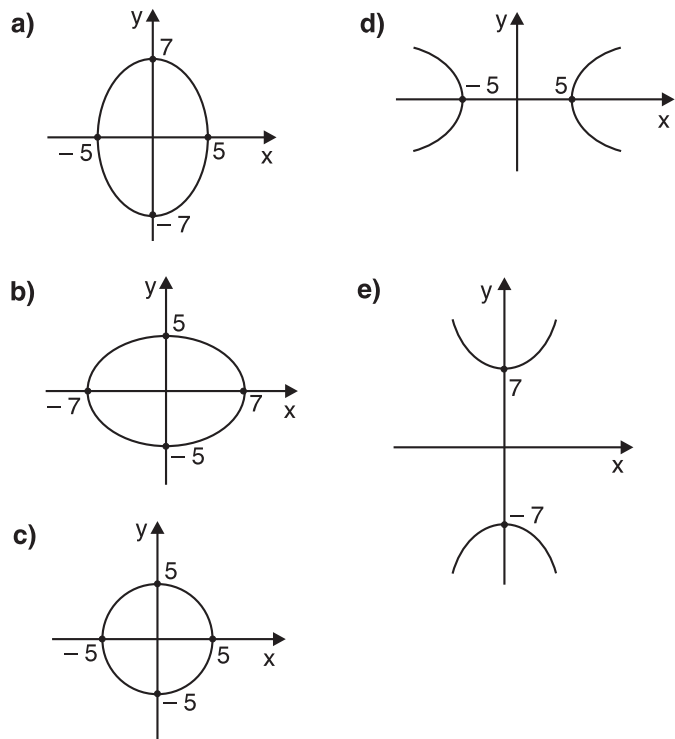
III. $C(0; 0)$ e horizontal

Resposta:



5 O gráfico que melhor representa a cônica de equação

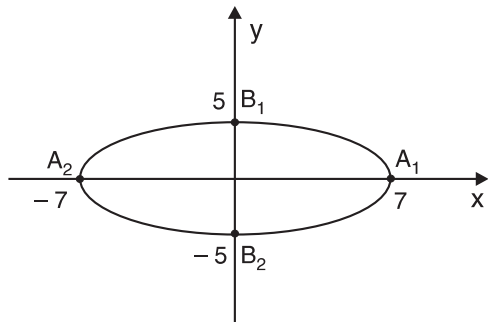
$$\frac{x^2}{49} + \frac{y^2}{25} = 1 \text{ é:}$$



Resolução:

I. $a^2 = 49 \Rightarrow a = 7$ e $b^2 = 25 \Rightarrow b = 5$

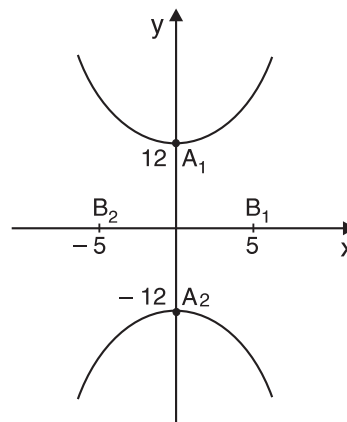
II. A cônica é uma elipse horizontal de $C(0; 0)$:



Resposta: B

FRENTE 1 – AULA 2

1



Na hipérbole da figura acima, determine:

a) as coordenadas dos vértices

$A_1(0; 12)$ e $A_2(0; -12)$

b) as coordenadas dos focos

$F_1(0; 13)$ e $F_2(0; -13)$

c) as coordenadas dos polos

$B_1(5; 0)$ e $B_2(-5; 0)$

d) o eixo transversal

24

e) o eixo conjugado

10

f) a distância focal

26

g) a excentricidade

$$e = \frac{13}{12}$$

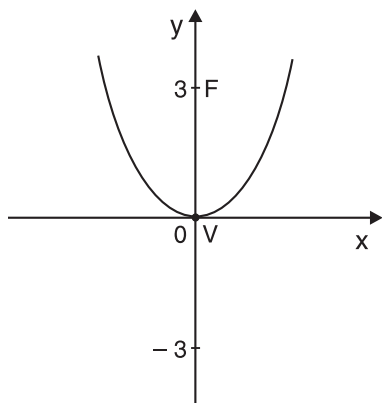
h) a equação da hipérbole

$$\frac{y^2}{144} - \frac{x^2}{25} = 1$$

2 Os focos F_1 e F_2 da hipérbole de equação $\frac{x^2}{10} - y^2 = 1$ estão, respectivamente, nas coordenadas:

- a) $(\sqrt{11}; 0)$ e $(-\sqrt{11}; 0)$
- b) $(0; \sqrt{11})$ e $(0; -\sqrt{11})$
- c) $(10; 0)$ e $(-10; 0)$
- d) $(0; 10)$ e $(0; -10)$
- e) $(1; 0)$ e $(-1; 0)$

3



Relativamente à parábola de foco no ponto F e vértice no ponto V , representados na figura acima, pede(m)-se:

a) a equação da reta diretriz

$$y = -3$$

b) as coordenadas do foco

$$F(0; 3)$$

c) as coordenadas do vértice

$$V(0; 0)$$

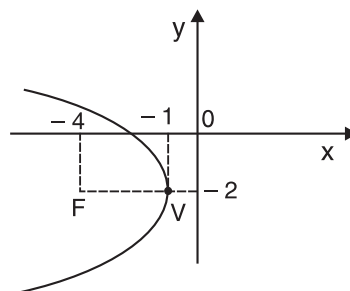
d) o parâmetro

$$2f = 6$$

e) a equação da parábola

$$x^2 = 12y$$

4



Relativamente à parábola de foco no ponto F e vértice no ponto V , representada na figura acima, pede(m)-se:

a) a equação da reta diretriz

$$x = 2$$

b) as coordenadas do foco

$$F(-4; -2)$$

c) as coordenadas do vértice

$$V(-1; -2)$$

d) o parâmetro

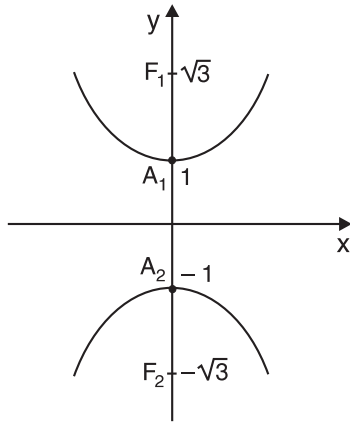
$$2f = 6$$

e) a equação da parábola

$$(y + 2)^2 = -12(x + 1)$$

Exercícios-Tarefa

1



Na hipérbole da figura acima, determine:

a) as coordenadas dos vértices

Resolução:

$$A_1, A_2 \in 0 y \Rightarrow A_1 (0; 1) \text{ e } A_2 (0; -1)$$

Resposta:

$$A_1 (0; 1) \text{ e } A_2 (0; -1)$$

b) as coordenadas dos focos

Resolução:

$$F_1, F_2 \in 0 y \Rightarrow F_1 (0; \sqrt{3}) \text{ e } F_2 (0; -\sqrt{3})$$

Resposta:

$$F_1 (0; \sqrt{3}) \text{ e } F_2 (0; -\sqrt{3})$$

c) as coordenadas dos polos

Resolução:

$$\text{I. } a = 1, f = \sqrt{3} \text{ e } f^2 = a^2 + b^2 \Rightarrow (\sqrt{3})^2 = 1^2 + b^2 \Rightarrow b = \sqrt{2}$$

$$\text{II. } B_1, B_2 \in 0 x \Rightarrow B_1 (\sqrt{2}; 0) \text{ e } B_2 (-\sqrt{2}; 0)$$

Resposta:

$$B_1 (\sqrt{2}; 0) \text{ e } B_2 (-\sqrt{2}; 0)$$

d) o eixo transversal

Resolução:

$$a = 1 \Rightarrow 2a = 2$$

Resposta:

$$2a = 2$$

e) o eixo conjugado

Resolução:

$$b = \sqrt{2} \Rightarrow 2b = 2\sqrt{2}$$

Resposta:

$$2b = 2\sqrt{2}$$

f) a distância focal

Resolução:

$$f = \sqrt{3} \Rightarrow 2f = 2\sqrt{3}$$

Resposta:

$$2f = 2\sqrt{3}$$

g) a excentricidade

Resolução:

$$e = \frac{f}{a} \Rightarrow e = \sqrt{3}$$

Resposta:

$$e = \sqrt{3}$$

h) a equação da hipérbole

Resolução:

$$\text{I. Posição vertical, } C (0; 0), a = 1 \text{ e } b = \sqrt{2}$$

$$\text{II. } \frac{y^2}{a^2} - \frac{x^2}{b^2} = 1 \Rightarrow \frac{y^2}{1} - \frac{x^2}{2} = 1 \Rightarrow y^2 - \frac{x^2}{2} = 1$$

Resposta:

$$y^2 - \frac{x^2}{2} = 1$$

2 Esboce o gráfico da hipérbole de equação $x^2 - y^2 = 1$, destacando os respectivos vértices, focos e polos.

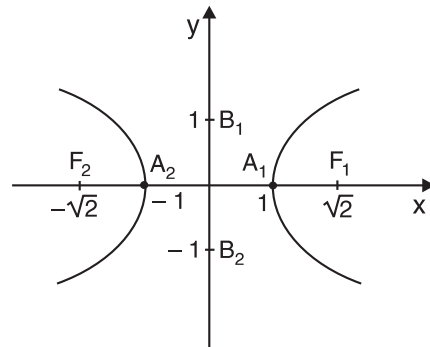
Resolução:

$$\text{I. } a^2 = 1 \Rightarrow a = 1 \text{ e } b^2 = 1 \Rightarrow b = 1$$

$$\text{II. } f^2 = a^2 + b^2 \Rightarrow f^2 = 1 + 1 \Rightarrow f = \sqrt{2}$$

$$\text{III. Posição horizontal e } C (0; 0)$$

Resposta:



3 Determine a equação da hipérbole cujos vértices são $(0; 3)$ e $(0; -3)$ e cuja distância focal é igual a $2\sqrt{10}$.

Resolução:

I. $A_1, A_2 \in 0 y \Rightarrow$ vertical, $C(0; 0)$ e $a = 3$

II. $2f = 2\sqrt{10} \Rightarrow f = \sqrt{10}$

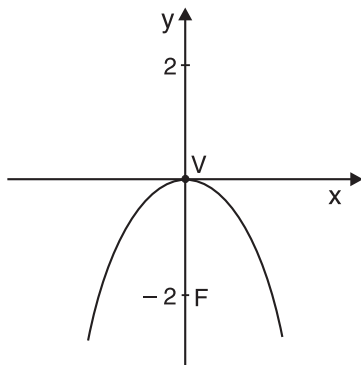
III. $f^2 = a^2 + b^2 \Rightarrow (\sqrt{10})^2 = 3^2 + b^2 \Rightarrow b = 1$

IV. $\frac{y^2}{a^2} - \frac{x^2}{b^2} = 1 \Rightarrow \frac{y^2}{9} - \frac{x^2}{1} = 1 \Rightarrow \frac{y^2}{9} - x^2 = 1$

Resposta:

$$\frac{y^2}{9} - x^2 = 1$$

4



Relativamente à parábola de foco no ponto **F** e vértice no ponto **V**, representados na figura acima, pede(m)-se:

a) a equação da reta diretriz

Resolução:

$Vd = VF = f = 2 \Rightarrow (d) y = 2 \Rightarrow (d) y - 2 = 0$

Resposta:

$y = 2$ ou $y - 2 = 0$

b) as coordenadas do foco

Resolução:

$F \in 0 y \Rightarrow F(0; 2)$

Resposta:

$F(0; -2)$

c) as coordenadas do vértice

Resolução:

O vértice é a origem $\Rightarrow V(0; 0)$

Resposta:

$V(0; 0)$

d) o parâmetro

Resolução:

$f = 2 \Rightarrow p = 2f = 4$

Resposta:

$2f = 4$

e) a equação da parábola

Resolução:

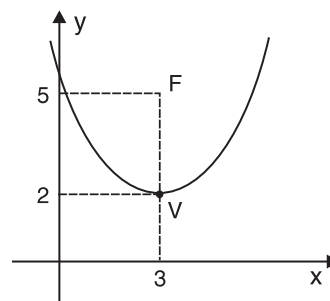
$V(0; 0)$ e concavidade para baixo

$x^2 = -4fy \Rightarrow x^2 = -8y$

Resposta:

$x^2 = -8y$

5



Em relação à parábola de foco no ponto **F** e vértice no ponto **V**, representada na figura acima, pede(m)-se:

a) a equação da reta diretriz

Resolução:

$Vd = VF = f = 3 \Rightarrow (d) y = -1$ ou $(d) y + 1 = 0$

Resposta:

$y = -1$ ou $y + 1 = 0$

b) as coordenadas do foco

Resolução:

I. $x_F = x_V = 3$ e $y_F = y_V + 3 \Rightarrow y_F = 5$

II. $F(3, 5)$

Resposta:

$F(3; 5)$

c) as coordenadas do vértice

Resolução:

$x_V = 3$ e $y_V = 2 \Rightarrow V(3; 2)$

Resposta:

$V(3; 2)$

d) o parâmetro

Resolução:

$$f = 3 \Rightarrow p = 2f = 6$$

Resposta:

$$p = 2f = 6$$

e) a equação da parábola

Resolução:

V (3; 2) e concavidade para cima

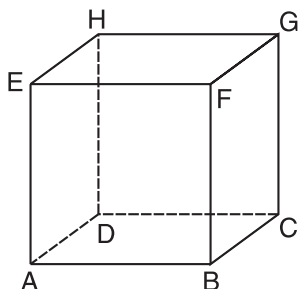
$$(x - x_v)^2 = 4f(y - y_v) \Rightarrow (x - 3)^2 = 12(y - 2)$$

Resposta:

$$(x - 3)^2 = 12(y - 2)$$

FRENTE 2 – AULA 3

1



Considerando a aresta \overline{AB} do cubo ABCDEFGH da figura acima, enumere as retas suportes das:

a) arestas paralelas a \overline{AB}

$\leftrightarrow \leftrightarrow \leftrightarrow$
EF, GH, CD

b) arestas perpendiculares a \overline{AB}

$\leftrightarrow \leftrightarrow \leftrightarrow \leftrightarrow$
AE, AD, BF, BC

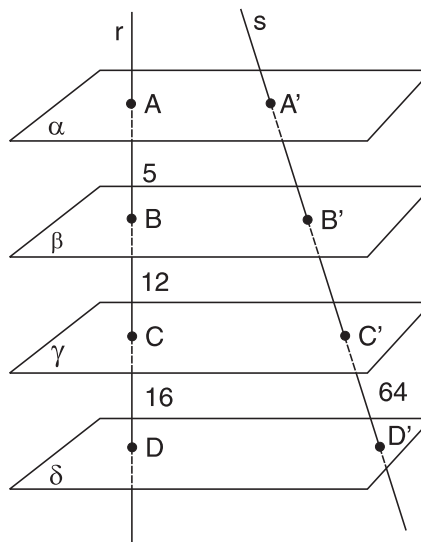
c) arestas nem paralelas nem perpendiculares a \overline{AB} (reversas)

$\leftrightarrow \leftrightarrow \leftrightarrow \leftrightarrow$
EH, FG, DH, CG

2 Assinale com **V**, se verdadeiras, e com **F**, se falsas, as afirmações a seguir:

- I. (F) Duas retas que não têm ponto em comum são paralelas.
- II. (V) Duas retas distintas que têm ponto em comum são concorrentes.
- III. (V) Duas retas coplanares que não têm ponto em comum são paralelas.
- IV. (V) Duas retas reversas não têm ponto em comum.
- V. (V) Duas retas não coplanares são reversas.
- VI. (V) Se uma reta não tem ponto em comum com um plano, ela é paralela a ele.
- VII. (V) Se uma reta tem ponto em comum com um plano pode ser incidente a ele.
- VIII. (F) Sendo dois planos paralelos, todo plano secante a um deles é paralelo ao outro.
- IX. (V) Dois planos secantes possuem como intersecção uma reta.

3



Na figura acima, α , β , γ e δ são planos paralelos e r e s , duas retas transversais. A medida $A'D'$ é:

- a) 33
- b) 66
- c) 86
- d) 108
- e) 132

4 Se um poliedro convexo possui 20 faces e 12 vértices, então o número de arestas deste poliedro é:

- a) 12
- b) 18
- c) 28
- d) 30
- e) 32

5 Um poliedro convexo de onze faces tem seis faces triangulares e cinco faces quadrangulares. Calcule o número de arestas e de vértices do poliedro.

$$A = 19 \text{ e } V = 10$$

Exercícios-Tarefa

1 Coloque **V** ou **F** conforme as sentenças sejam verdadeiras ou falsas.

- (F) Duas retas que têm ponto em comum são concorrentes.
- (F) Duas retas que não têm ponto em comum são paralelas distintas.
- (V) Duas retas não coplanares são sempre reversas.
- (V) Se uma reta não tem ponto em comum com um plano, ela é paralela a ele.
- (V) Dois planos paralelos interceptados por um terceiro determinam neste último intersecções paralelas.
- (V) Dois planos, sendo paralelos, se um terceiro os interceptar, o fará em retas paralelas.
- (V) Para se obter a intersecção de dois planos secantes é suficiente obter dois pontos distintos da intersecção, ou seja, dois pontos distintos comuns aos planos.
- (V) Se três retas são, duas a duas, paralelas distintas, ou elas determinam um plano ou determinam três planos.
- (V) Dois planos, sendo paralelos, toda reta que fura um, fura o outro.
- (V) Dois planos, sendo paralelos, todo plano que intercepta um, intercepta o outro.

Resolução:

- Falsa. Podem ser coincidentes.
- Falsa. Podem ser reversas.

2 Duas retas são reversas quando:

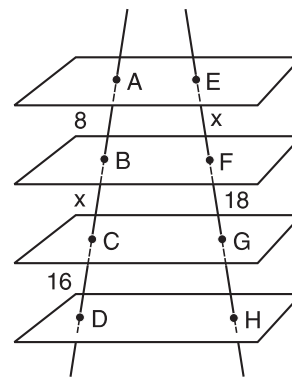
- não existe plano que contém ambas.
- existe um único plano que as contém.
- não se interceptam.
- não são paralelas.
- são paralelas, mas estão contidas em planos distintos.

Resolução:

Duas retas são reversas quando não são coplanares.

Resposta: A

3



São dados: um feixe de quatro planos paralelos, uma reta incidente a eles nos pontos A, B, C e D e uma outra reta incidente a eles nos pontos E, F, G e H. Sabendo-se que $AB = 8$, $CD = 16$, $FG = 18$ e $BC = EF$, o valor de EH é:

- 22
- 27
- 36
- 48
- 54

Resolução:

- $\frac{8}{x} = \frac{x}{18} \Rightarrow x^2 = 144 \Rightarrow x = 12$, pois $x > 0$.
- $\frac{AB}{AD} = \frac{EF}{EH} \Rightarrow \frac{8}{16} = \frac{12}{EH} \Rightarrow EH = 24$

Resposta: E

4 Um poliedro convexo possui duas faces triangulares e três faces quadrangulares. Determine o número de vértices e de arestas desse poliedro.

Resolução:

- $F = 2 + 3 \Rightarrow F = 5$
- $A = \frac{2 \cdot 3 + 3 \cdot 4}{2} \Rightarrow A = 9$
- $V - A + F = 2 \Rightarrow V - 9 + 5 = 2 \Rightarrow V = 6$

Resposta:

9 arestas e 6 vértices

5 Determine o número de vértices de um poliedro convexo que tem 3 faces triangulares, 1 face quadrangular, 1 pentagonal e 2 hexagonais.

Resolução:

- $F = 3 + 1 + 1 + 2 \Rightarrow F = 7$
- $A = \frac{3 \cdot 3 + 1 \cdot 4 + 1 \cdot 5 + 2 \cdot 6}{2} \Rightarrow A = 15$
- $V - A + F = 2 \Rightarrow V - 15 + 7 = 2 \Rightarrow V = 10$

Resposta:

$V = 10$

6 Num poliedro convexo de 10 arestas, o número de faces é igual ao número de vértices. Quantas faces tem esse poliedro?

Resolução:

I. $A = 10$ e $V = F$

II. $V - A + F = 2 \Rightarrow F - 10 + F = 2 \Rightarrow F = 6$

Resposta:

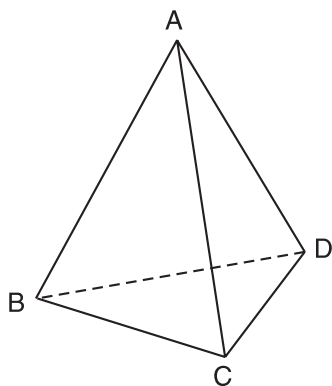
$F = 6$

FRENTE 2 – AULA 4

1 Classifique as afirmações a seguir como verdadeiras (V) ou falsas (F):

- I. (V) Sendo dois planos paralelos distintos, toda reta incidente a um deles é incidente ao outro.
- II. (F) Sendo dois planos secantes, toda reta incidente a um deles é incidente ao outro.
- III. (F) Uma reta concorrente a uma reta de um plano é incidente ao plano.
- IV. (F) Uma reta paralela a uma reta de um plano está contida no plano.
- V. (F) Se uma reta é paralela a um plano, ela é reversa a todas as retas do plano.
- VI. (V) Se dois planos são paralelos distintos, uma reta de um deles é paralela ou reversa a qualquer reta do outro.
- VII. (F) Por um ponto fora de uma reta pode-se traçar um único plano paralelo à mesma reta.

2



No tetraedro da figura, enumere duas a duas as retas suportes das arestas que são reversas.

$\leftrightarrow \leftrightarrow$
AC e BD

$\leftrightarrow \leftrightarrow$
BC e AD

$\leftrightarrow \leftrightarrow$
AB e CD

3 Quais são os poliedros de Platão? E os regulares?

Platão: – tetraedro
– hexaedro
– octaedro
– dodecaedro
– icosaedro

Regulares: os mesmos, porém com faces regulares e congruentes.

4 Calcule o número de arestas e de vértices de um dodecaedro regular.

$A = 30$ e $V = 20$

5 O número de faces triangulares de uma pirâmide é 11. Pode-se, então, afirmar que esta pirâmide possui:

- a) 33 vértices e 22 arestas
- b) 12 vértices e 11 arestas
- c) 22 vértices e 11 arestas
- d) 11 vértices e 22 arestas
- e) 12 vértices e 22 arestas

Exercícios-Tarefa

1 Classifique as sentenças como verdadeiras (V) ou falsas (F).

- a) (F) Dois planos distintos perpendiculares a um mesmo plano são paralelos.
- b) (F) Por uma reta não pertencente a um plano pode-se conduzir apenas um plano perpendicular a este.
- c) (F) Se dois planos são perpendiculares, uma reta contida num deles é perpendicular ao outro.
- d) (V) Por um ponto não pertencente a um plano pode-se conduzir uma única reta perpendicular a este.
- e) (V) Se dois planos são paralelos, uma reta perpendicular a um deles é ortogonal ou perpendicular a qualquer reta do outro.

Resolução:

- a) Falsa. Podem ser secantes.
- b) Falsa. Se a reta for perpendicular ao plano, teremos infinitos planos perpendiculares a esse plano passando pela reta.
- c) Falsa. Pode ser perpendicular, paralela ou incidente no outro.

