

Projeção ortográfica da figura plana

Introdução

As formas de um objeto representado em perspectiva isométrica apresentam certa **deformação**, isto é, **não** são mostradas em **verdadeira grandeza**, apesar de conservarem as mesmas proporções do comprimento, da largura e da altura do objeto.

Além disso, a representação em perspectiva isométrica nem sempre mostra claramente os detalhes internos da peça.

Na indústria, em geral, o profissional que vai produzir uma peça não recebe o desenho em perspectiva, mas sim sua representação em **projeção ortográfica**.

Nossa aula

Nesta aula você ficará sabendo:

- o que é uma projeção ortográfica;
- como se dá a projeção ortográfica de figuras geométricas elementares em um plano;
- que, às vezes, é necessário mais de um plano para representar a projeção ortográfica;
- o que são os diedros.

Modelo, observador e plano de projeção

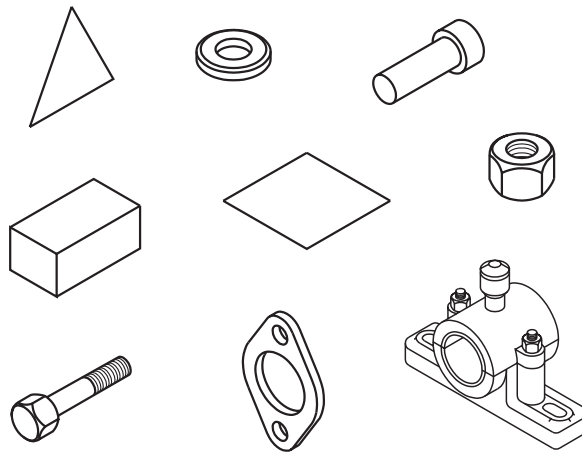
A projeção ortográfica é uma forma de representar graficamente objetos tridimensionais em superfícies planas, de modo a transmitir suas características **com precisão** e demonstrar sua **verdadeira grandeza**.

Para entender bem como é feita a projeção ortográfica você precisa conhecer três elementos: o modelo, o observador e o plano de projeção.

Modelo

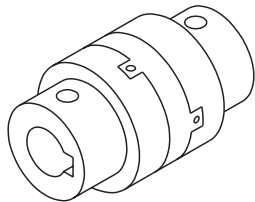
É o objeto a ser representado em projeção ortográfica. Qualquer objeto pode ser tomado como modelo: uma figura geométrica, um sólido geométrico, uma peça de máquina ou mesmo um conjunto de peças.

Veja alguns exemplos de modelos:

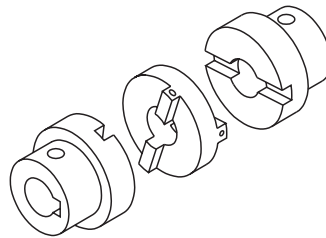


O modelo geralmente é representado em posição que mostre a maior parte de seus elementos. Pode, também, ser representado em posição de trabalho, isto é, aquela que fica em funcionamento.

Quando o modelo faz parte de um conjunto mecânico, ele vem representado na posição que ocupa no conjunto.



União de eixos (conjunto)




União de eixos (componentes)

Observador


É a pessoa que vê, analisa, imagina ou desenha o modelo.

Para representar o modelo em projeção ortográfica, o observador deve analisá-lo cuidadosamente em várias posições.

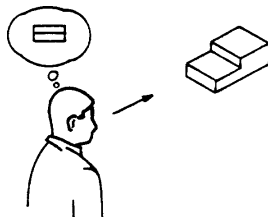
As ilustrações a seguir mostram o observador vendo o modelo **de frente**, **de frente**, **cima** e **de lado**



Vendo o modelo de frente

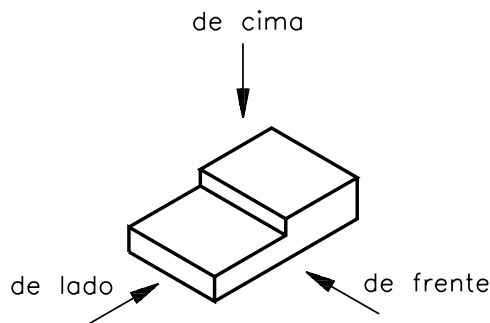


Vendo o modelo de cima



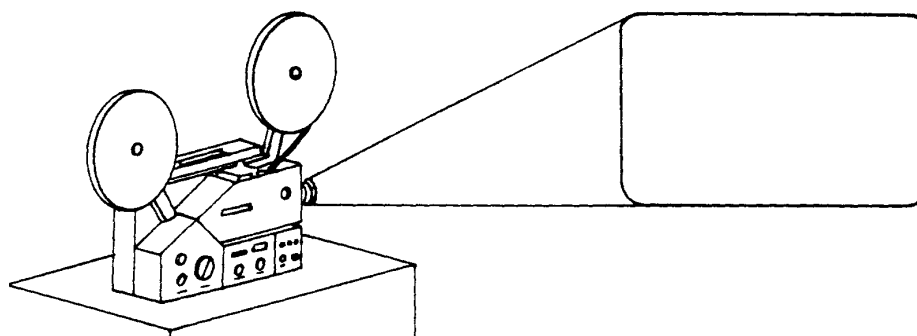
Vendo o modelo de lado

Em projeção ortográfica deve-se imaginar o observador localizado a uma **distância infinita** do modelo. Por essa razão, apenas a direção de onde o observador está vendo o modelo será indicada por uma **seta**, como mostra a ilustração abaixo:



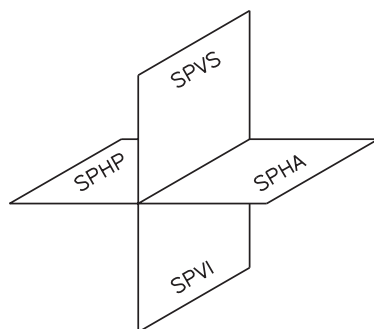
Plano de projeção

É a superfície onde se projeta o modelo. A tela de cinema é um bom exemplo de plano de projeção:



Os planos de projeção podem ocupar várias posições no espaço.

Em desenho técnico usamos dois planos básicos para representar as projeções de modelos: um **plano vertical** e um **plano horizontal** que se cortam perpendicularmente.

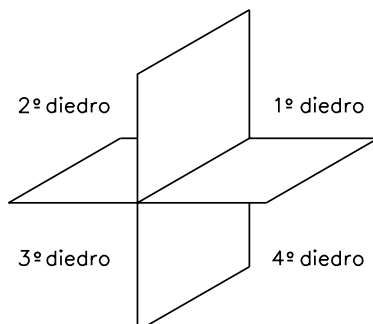


- SPVS - semiplano vertical superior
- SPVI - semiplano vertical inferior
- SPHA - semiplano horizontal anterior
- SPVP - semiplano horizontal posterior

Esses dois planos, perpendiculares entre si, dividem o espaço em quatro regiões chamadas **diedros**.

Diedros

Cada diedro é a região limitada por dois semiplanos perpendiculares entre si. Os diedros são numerados no sentido anti-horário, isto é, no sentido contrário ao do movimento dos ponteiros do relógio.



O método de representação de objetos em dois semiplanos perpendiculares entre si, criado por Gaspar Monge, é também conhecido como **método mongeano**.

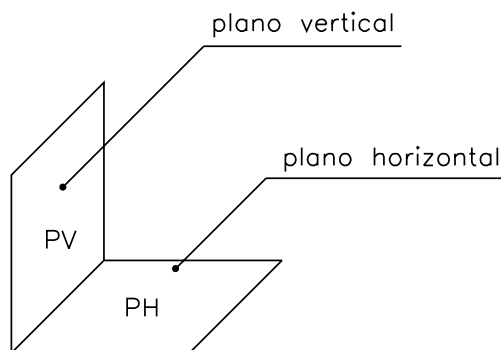
Atualmente, a maioria dos países que utilizam o método mongeano adotam a projeção ortográfica no **1º diedro**. No Brasil, a ABNT recomenda a representação no **1º diedro**.

Entretanto, alguns países, como por exemplo os Estados Unidos e o Canadá, representam seus desenhos técnicos no **3º diedro**.

Neste curso, você estudará detalhadamente a representação no 1º diedro, como recomenda a ABNT. Ao ler e interpretar desenhos técnicos, o primeiro cuidado que se deve ter é identificar em que diedro está representado o modelo. Esse cuidado é importante para evitar o risco de interpretar errado as características do objeto.

Para simplificar o entendimento da projeção ortográfica passaremos a representar apenas o 1º diedro, o que é normalizado pela ABNT.

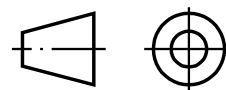
Chamaremos o semiplano vertical superior de **plano vertical**. O semiplano horizontal anterior passará a ser chamado de **plano horizontal**.



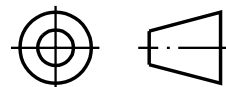
Ao interpretar um desenho técnico procure identificar, de imediato, em que diedro ele está representado.

AULA
6

O símbolo ao lado indica que o desenho técnico está representado no **1º diedro**. Este símbolo aparece no **canto inferior direito** da folha de papel dos desenhos técnicos, dentro da legenda.



Quando o desenho técnico estiver representado no **3º diedro**, aparecerá este outro símbolo:



Cuidado para não confundir os símbolos! Procure gravar bem, principalmente o símbolo do **1º diedro** que você usará com mais frequência.

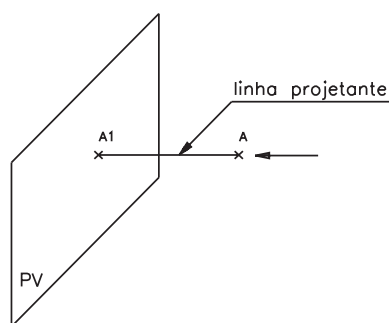
Atenção – As representações no 3º diedro requerem preparo específico para sua leitura e interpretação. O estudo das representações no 3º diedro foge aos objetivos deste curso.

Projeção ortográfica do ponto

Todo sólido geométrico nada mais é que um conjunto de pontos organizados no espaço de determinada forma. Por essa razão, o primeiro modelo a ser tomado como objeto de estudo será o **ponto**.

Imagine um plano vertical e um ponto **A** não pertencente a esse plano, observados na direção indicada pela seta, como mostra a figura a seguir.

Traçando uma perpendicular do ponto **A** até o plano, o ponto **A1** – onde a perpendicular encontra o plano – é a projeção do ponto **A**.

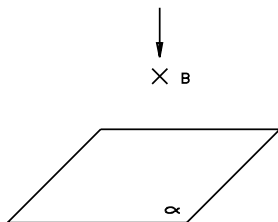


A linha perpendicular que vai do ponto tomado como modelo ao plano de projeção é chamada **linha projetante**.

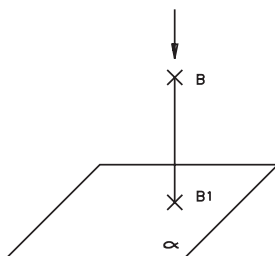
Generalizando esse exemplo, podemos afirmar que a **projeção ortográfica de um ponto num plano é sempre um ponto idêntico a ele mesmo**.

Verificando o entendimento

Represente a projeção ortográfica do ponto **B** no plano horizontal α .



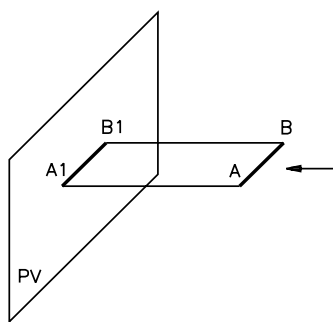
Veja se acertou: você deve ter traçado uma perpendicular do ponto **B** até o plano α . O ponto onde a perpendicular encontra o plano horizontal, que você pode ter chamado de **B1**, é a projeção do ponto **B**. O segmento **BB1**, é a **linha projetante**.



Projeção ortográfica do segmento de reta

A projeção ortográfica de um segmento de reta em um plano depende da **posição** que esse segmento ocupa em relação ao plano.

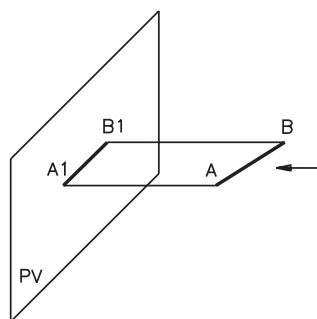
Para começar, imagine um segmento de reta **AB**, **paralelo** a um plano vertical, observado na direção indicada pela seta, como mostra a figura a seguir. Traçando duas linhas projetantes a partir das extremidades do segmento, os pontos **A** e **B** ficarão determinados, no plano vertical, pelos pontos **A1** e **B1**. Unindo estes últimos pontos, temos o segmento **A1B1**, que representa a **projeção do segmento AB**.



Os segmentos **AB** e **A1B1** são **congruentes**, isto é, têm a mesma medida. A projeção ortográfica de um segmento **paralelo** ao plano de projeção é sempre um segmento que tem a mesma medida do segmento tomado como modelo. Neste caso, a projeção ortográfica representa o modelo **verdadeira grandeza**, ou seja, sem deformação. Os segmentos **AA1** e **BB1**, como você já sabe, são linhas projetantes.

Agora você vai ver o que acontece quando o segmento de reta **obliquo** em relação ao plano de projeção.

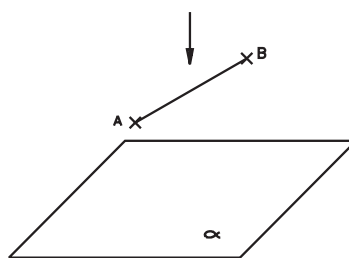
Imagine um plano vertical e um segmento de reta **AB**, **obliquo** em relação a esse plano, observados na direção indicada pela seta, como mostra a próxima figura. Traçando as projetantes a partir das extremidades **A** e **B**, determinamos, no plano vertical, os pontos **A1** e **B1**. Unindo os pontos **A1** e **B1**, obtemos o segmento **A1B1**, que representa a projeção ortográfica do segmento **AB**.



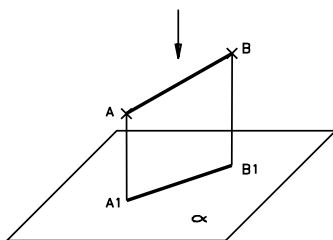
Observe que o segmento **A1B1** é **menor** que o segmento **AB**. Isso ocorre porque a projeção de um segmento **obliquo** a um plano de projeção é sempre um segmento **menor** que o modelo. Neste caso, a projeção ortográfica **não** representa a verdadeira grandeza do segmento que foi usado como modelo.

Verificando o entendimento

Determine a projeção ortográfica do segmento **AB** oblíquo ao plano horizontal α .

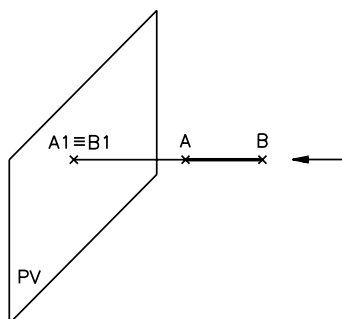


Confira: você deve ter representado no plano α o segmento **A1B1** menor que o segmento **AB**, como mostra o desenho a seguir.



Quando o segmento **AB** é **perpendicular** ao plano vertical, a projeção ortográfica de todos os pontos do segmento é representada por **um único ponto**.

Isso ocorre porque as projetantes traçadas a partir dos pontos **A** e **B** de todos os pontos que formam o segmento **coincidem**. Essas linhas projetantes vão encontrar o plano num mesmo ponto:



O sinal \equiv representa **coincidência**. Os pontos **A1** e **B1** são, portanto, coincidentes (**A1 \equiv B1**).

Verificando o entendimento

Agora, assinale com um X a alternativa correta.

A projeção ortográfica de um segmento **CD** perpendicular a um plano de projeção **horizontal B** é:

- a) um segmento **C1D1** congruente ao segmento **CD**;
- b) um segmento **C1D1** menor que o segmento **CD**;
- c) representada por um único ponto.

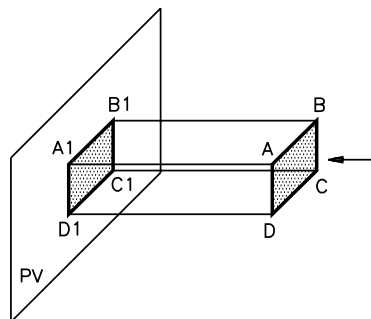
Você deve ter assinalado o item **(c)**, pois a projeção ortográfica de um segmento perpendicular a um plano de projeção qualquer sempre se reduz a um ponto.

Projeção ortográfica do retângulo

A projeção ortográfica de uma figura plana depende da posição que ela ocupa em relação ao plano.

Imagine um observador vendo um retângulo $ABCD$ paralelo a um plano de projeção, como mostra a figura seguinte.

Para obter a projeção ortográfica do retângulo $ABCD$ no plano vertical, você deve traçar projetantes a partir dos vértices A, B, C, D .

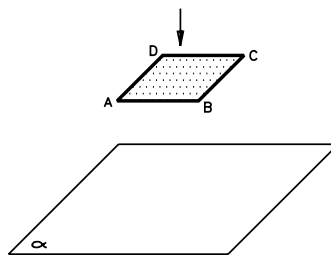


Ligando os pontos $A1, B1, C1$ e $D1$, que são as projeções dos pontos A, B, C e D , fica definida a projeção ortográfica do retângulo $ABCD$ no plano vertical. O retângulo $A1B1C1D1$ é idêntico ao retângulo $ABCD$.

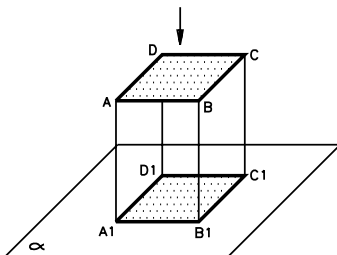
Quando a figura plana é **paralela** ao plano de projeção sua projeção ortográfica é representada em **verdadeira grandeza**.

Verificando o entendimento

Represente a projeção ortográfica do retângulo $ABCD$ no plano horizontal, sabendo que o retângulo $ABCD$ é paralelo a α .

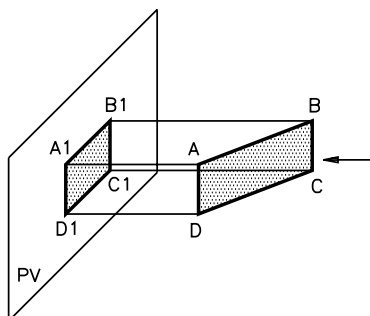


Primeiro, você deve ter traçado linhas projetantes a partir de cada vértice do retângulo até encontrar o plano α ; depois, deve ter unido as projeções de cada vértice, para obter a projeção ortográfica **A1B1C1D1**, como mostra a ilustração abaixo.



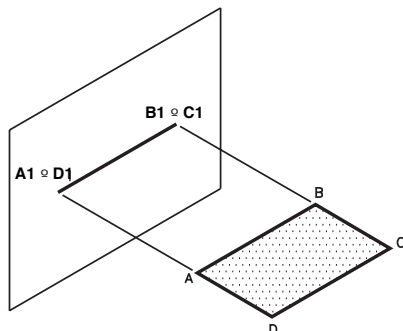
Quando a figura plana é oblíqua ao plano de projeção, sua projeção ortográfica **não é** representada em verdadeira grandeza. Acompanhe o próximo exemplo para entender melhor.

Imagine o mesmo retângulo **ABCD** **oblíquo** a um plano vertical. Para obter a projeção ortográfica desse retângulo no plano vertical, você deve traçar as projetantes a partir dos vértices, até atingir o plano. Ligando as projeções dos vértices, você terá um novo retângulo **A1B1C1D1**, que representa a projeção ortográfica do retângulo **ABCD**. O retângulo **A1B1C1D1** é menor que o retângulo **ABCD**.



Pode acontecer, também, de a figura plana ficar **perpendicular** ao plano de projeção.

Imagine o retângulo **ABCD** **perpendicular** ao plano vertical, observado na direção apontada pela seta, como mostra a figura a seguir, e analise sua projeção ortográfica.



AULA
6

A projeção ortográfica do retângulo **ABCD** no plano é representada por um **segmento de reta**. Observe que os lados **AB** e **CD** são segmentos paralelos entre si e paralelos ao plano de projeção. A projeção ortográfica desses dois lados é representada em verdadeira grandeza por um segmento de reta.

Os outros dois lados **AD** e **BC** são perpendiculares ao plano de projeção. Você já sabe que a projeção ortográfica de um segmento de reta perpendicular a um plano de projeção é representada por um ponto. Assim, a projeção do retângulo **ABCD**, perpendicular ao plano vertical, fica reduzida a um segmento de reta.

Quando a figura plana é perpendicular ao plano de projeção, sua projeção ortográfica **não é** representada em verdadeira grandeza.

Exercícios

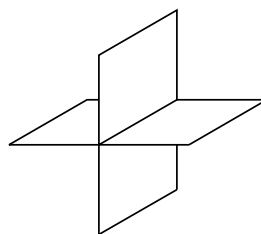
Exercício 1

Escreva V se a afirmação for verdadeira ou F se for falsa:

- () Um plano horizontal e um plano vertical, perpendiculares entre si, dividem o espaço em **4** regiões chamadas diedros.

Exercício 2

Numere os diedros formados pelos planos horizontal e vertical.

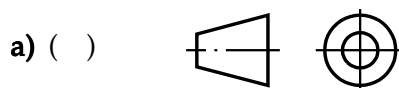


Exercício 3

Complete a frase: No Brasil, a ABNT adota a representação de desenhos técnicos no diedro.

Exercício 4

Qual dos dois símbolos indicativos de diedro, representados abaixo, é encontrado em desenhos técnicos brasileiros, de acordo com a determinação da ABNT?



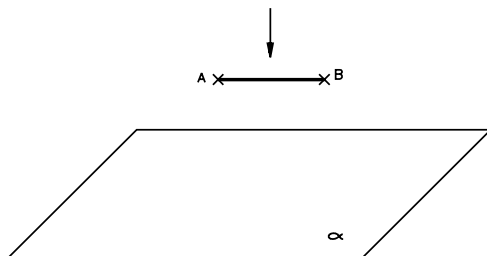
Exercício 5

Complete a frase na linha indicada.

A projeção ortográfica de um ponto em um plano de projeção é um

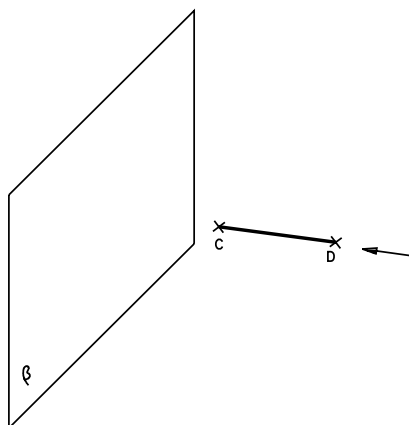
Exercício 6

Represente a projeção ortográfica do segmento **AB** no plano α , considerando o segmento **AB** paralelo a α .

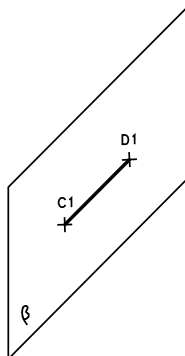


Exercício 7

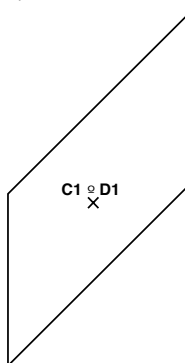
Assinale com um X a alternativa que corresponde à projeção do segmento **CD** no plano β , considerando o segmento **CD** perpendicular a β .



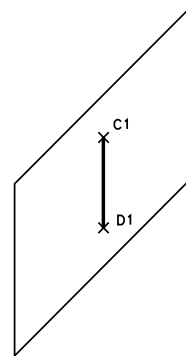
a) ()



b) ()



c) ()



Exercício 8

Assinale com um X a alternativa correta.

A projeção ortográfica de uma figura plana perpendicular a um plano de projeção é:

- a) um ponto;
- b) um segmento de reta;
- c) uma figura plana idêntica.

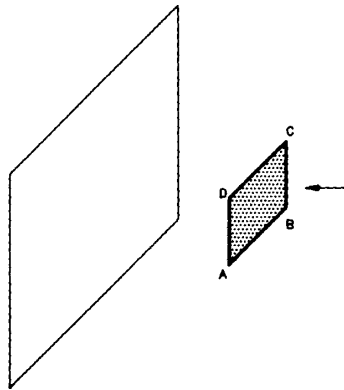
Exercício 9

Escreva V se a afirmação for verdadeira ou F se for falsa:

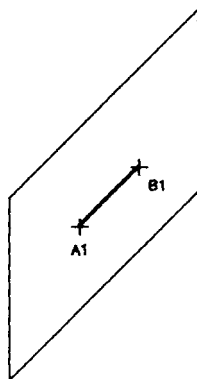
() A projeção ortográfica de uma figura plana, oblíqua ao plano de projeção, é representada em verdadeira grandeza.

Exercício 10

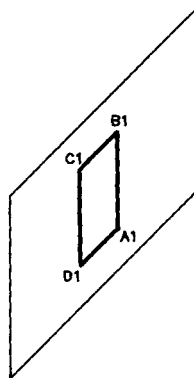
Assinale com um X a alternativa que indica a projeção ortográfica da figura plana paralela ao plano de projeção.



a) ()



b) ()



c) ()

