

Oceania

Vamos estudar nessa aula um continente formado por uma grande quantidade de ilhas: a Oceania. Esse continente possui uma área de 8.480.354 Km² com uma população total de pouco mais de 30 milhões de habitantes, e uma densidade demográfica de apenas 3,58 hab/Km². Esse continente é formado especialmente pela Austrália, Nova Zelândia, Papua Nova Guiné, mais alguns poucos países independentes e milhares de ilhas que constituem possessões estrangeiras.

As ilhas da Oceania podem ser divididas em:

***Melanésia** – constituem ilhas localizadas mais próximas da Austrália onde predominam povos de pele escura, de grupos negróides.

***Micronésia** – conjunto de pequenas ilhas localizadas ao norte, muitas delas pertencentes aos EUA, como as Ilhas Carolinas, Marianas e Marshall.

***Polinésia** – conjunto de muitas ilhas distribuídas por uma grande área do Pacífico incluindo Samoa, a Polinésia Francesa e o Arquipélago do Havaí, o 50º Estado dos EUA.

Evidentemente, os países mais importantes nesse continente são a Austrália e a Nova Zelândia. No entanto, antes de tratarmos desses dois países vamos destacar algumas situações relevantes na Oceania.

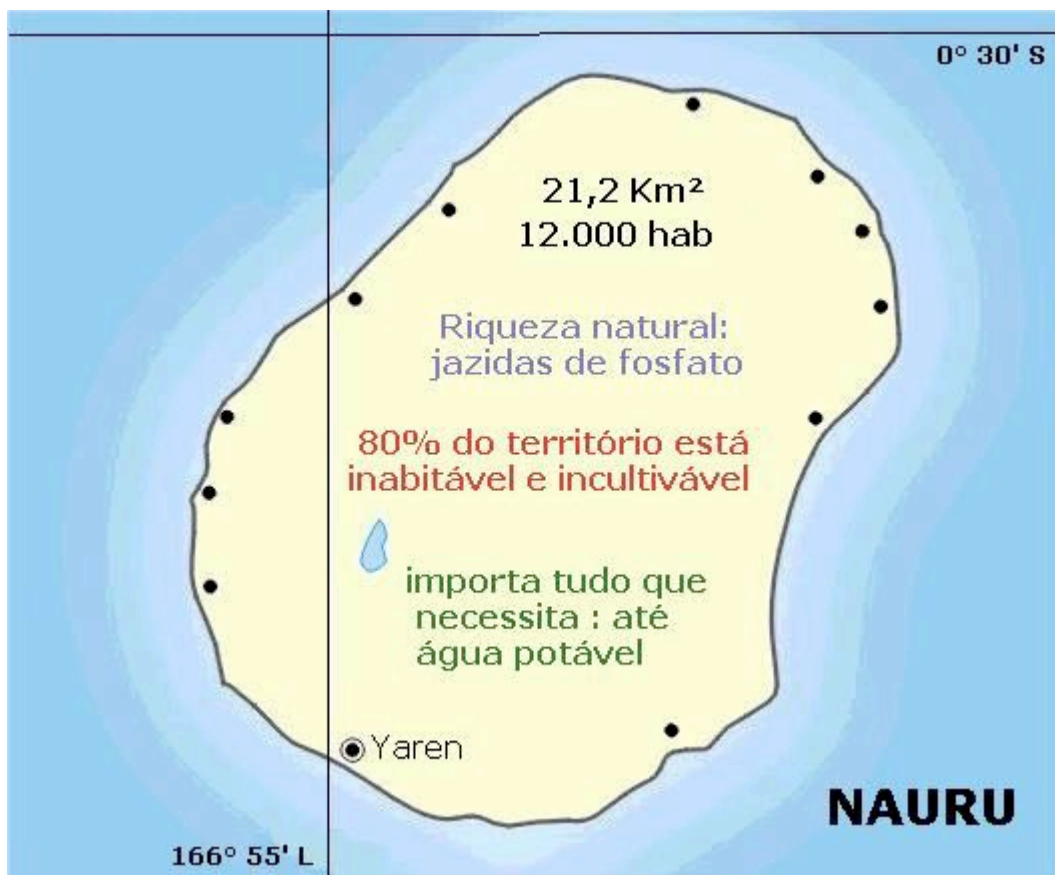
A região do Pacífico é cortada por uma linha que acompanha o meridiano de 180º, fazendo algumas curvas para evitar cortar áreas habitadas, chamada de Linha Internacional da Data. Essa linha marca a mudança de data no calendário sendo que, quando estamos à direita dessa linha observando o mapa nos encontramos 24 horas atrasadas de quem está à esquerda da linha.

Podemos destacar as Ilhas Marshall, um Estado que, de livre associado aos EUA, tornou-se independente em 1990. Nesse arquipélago encontramos o Atol de Bikini que serviu de base para testes nucleares dos Estados Unidos entre 1946 e 1958. Atualmente recebe indenizações dos EUA devido à contaminação pela radioatividade.

A Polinésia Francesa, grupo de ilhas no Pacífico, também serviu de base para os testes nucleares da França até 1996, no Atol de Mururoa, quando a França assina o Tratado de Proibição Total de Testes Nucleares. Constatam-se também danos ambientais no Atol e protestos da população local.

Papua Nova Guiné é um país que divide uma ilha com o Irian Ocidental, ilha pertencente à Indonésia. É, portanto, uma ilha dividida em dois continentes: a Oceania e a Ásia. Trata-se de um país produtor e exportador de gêneros agrícolas tropicais (cacau, café e coco) e minérios (petróleo, ouro e cobre). Foi colônia da Austrália, da qual se tornou independente em 1975.

Outro destaque é a minúscula ilha de Nauru, posicionada quase na linha do Equador. Com uma população de 12 mil habitantes, sendo 100% urbana e alta renda per capita, vive exclusivamente da exploração de suas jazidas de fosfato, em fase de esgotamento. Tudo o que a população necessita é importado, incluindo água potável. Nauru é um país suspeito de realizar a lavagem do dinheiro de atividades ilegais (como o da máfia russa). É inacreditável que, em 21 Km² de área e para sua minúscula população existam 400 bancos lá instalados. Observe Nauru no mapa abaixo:

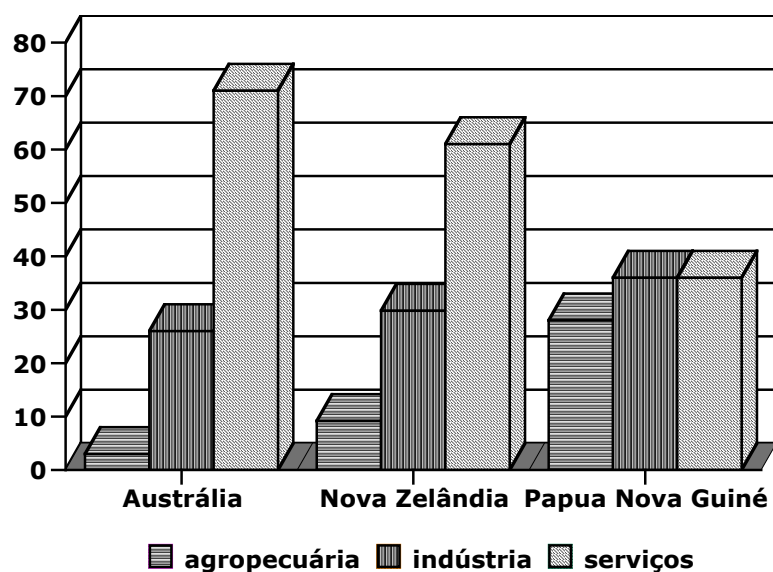


Observamos que a Oceania é um continente com grandes diferenças sócio-econômicas, destacando-se a Austrália e a Nova Zelândia como países de Primeiro Mundo. No entanto, a maior parte das ilhas desse continente, apresenta baixo padrão de vida, são dependentes economicamente de países como a própria Austrália, Nova Zelândia, Japão, EUA, Reino Unido e França. As ilhas da Oceania destacam-se na produção e exportação de gêneros agrícolas tropicais e em atividades turísticas.

A Austrália e a Nova Zelândia apresentam reduzido crescimento demográfico, elevada expectativa de vida e IDH e reduzidos analfabetismo e mortalidade infantil. Mas, outros países como Kiribati, Papua Nova Guiné e Vanuatu apresentam indicadores muito diferentes. Observe a tabela abaixo e compare especialmente os valores registrados para a Austrália e para Papua Nova Guiné. Observe também que alguns dados não estão disponíveis (nd) devido à falta de controle estatístico da população por parte dos países mais pobres.

COMPARATIVO SÓCIO-ECONÔMICO	CRESCIMENTO DEMOGRÁFICO (%)	EXPECTATIVA DE VIDA (EM ANOS)	ANALFABETISMO (%)	MORTALIDADE INFANTIL (POR MIL)	IDH
Austrália	1	75,5/81	- de 5	6	0,922
Kiribati	2	57/62	n.d.	55	n.d.
Nova Zelândia	1	74/80	- de 5	7	0,901
Papua Nova Guiné	2,2	57/59	28	61	0,570
Vanuatu	2,4	65,5/69,5	n.d.	39	0,627

Participação dos setores econômicos no PIB - em %



Nova Zelândia

A Nova Zelândia é um país formado por duas ilhas principais: a do Norte e a do Sul, separadas pelo Estreito de Cook. Seu relevo é montanhoso no interior com planícies litorâneas estreitas. Localiza-se em uma área instável geologicamente, sujeita a terremotos e a erupções vulcânicas. Seu clima predominante é o temperado oceânico.

A população da Nova Zelândia é reduzida, não atingindo 4 milhões de habitantes, concentrados principalmente na Ilha do Norte. A população é predominantemente branca de origem européia. A Nova Zelândia foi uma colônia de povoamento do Reino Unido. A população nativa dos maoris foi amplamente dizimada nesse processo de colonização constituindo atualmente cerca de 10% da população do país. A maioria da população é urbana e de adultos e o país apresenta um elevado IDH com reduzidos índices de analfabetismo e mortalidade infantil e uma elevada expectativa de vida. O crescimento populacional é muito reduzido.

A maior parte do PIB advém de atividades do setor terciário mas a base da economia são as atividades agropecuárias destacando-se a criação de ovinos. A Nova Zelândia é exportadora de produtos como carne, lã e laticínios. Na agricultura destacam-se a produção de cereais e batata. Pode ser lembrada também a extração de combustíveis fósseis (especialmente o carvão, no sul) e

o turismo, uma atividade em expansão. Relaciona-se comercialmente com países da Comunidade Britânica das Nações e com outros países pertencentes ao bloco da APEC.

Economia da Nova Zelândia

Pecuária (ovinos e bovinos)
Agricultura (cereais e batata)
**Indústria (siderurgia, alumínio,
carne, lã, laticínios)**
carvão
pescado

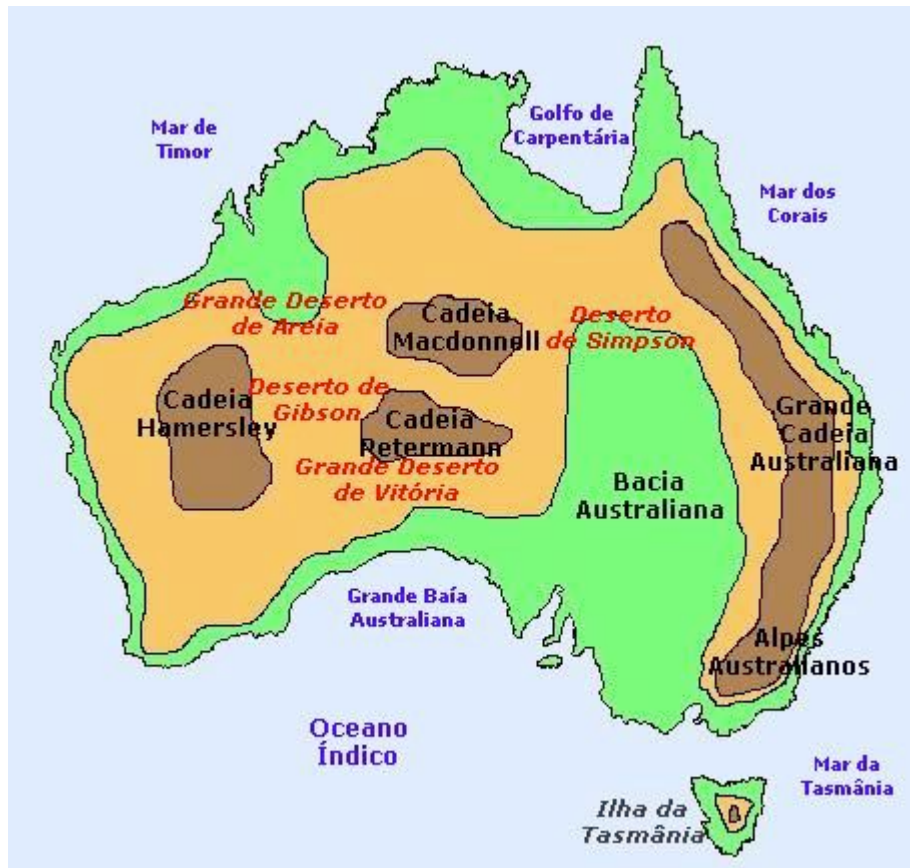
Austrália

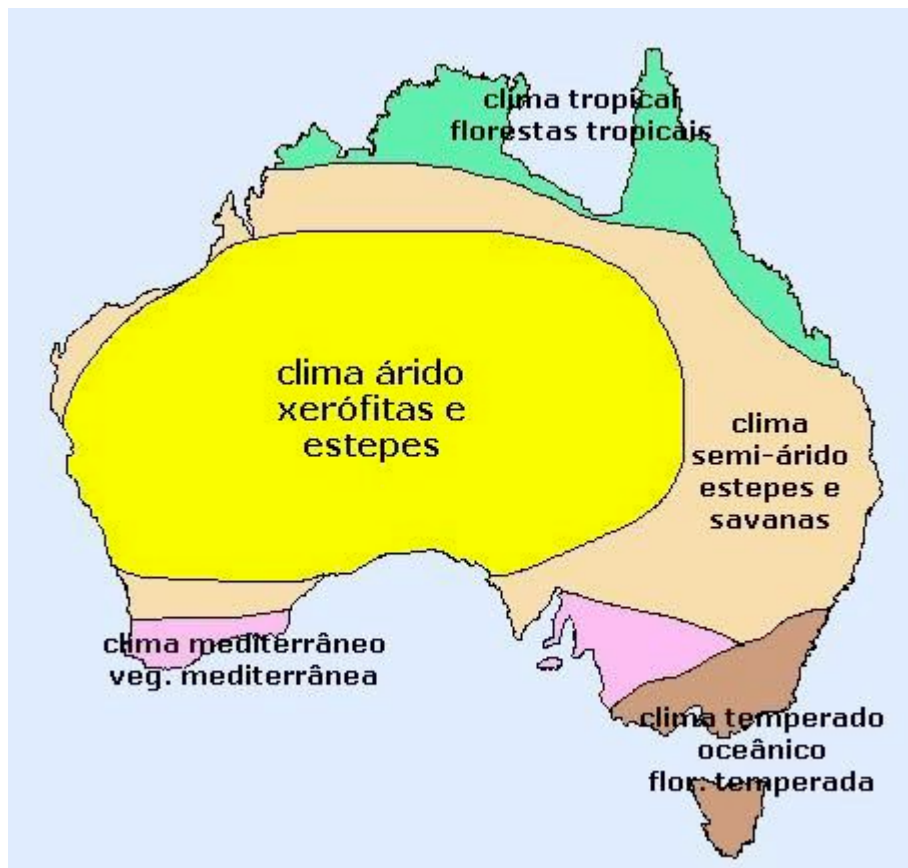
A Austrália é uma ilha de dimensões continentais, com uma área de 7.682.300 Km². É cortada pela linha do Trópico de Capricórnio e localiza-se entre os Oceanos Índico e Pacífico. Esse país é dividido em grandes Estados e Territórios. Observe o seu mapa político:



O relevo da Austrália é composto por cadeias montanhosas extensas, mas não muito elevadas, na porção leste, estendendo-se no sentido norte-sul. A porção central é dominada por uma bacia sedimentar deprimida e o leste por um planalto cristalino antigo e algumas áreas montanhosas. De uma forma geral as altitudes são modestas.

Próximo ao seu litoral nordeste encontramos a maior formação coralígena do mundo, a Grande Barreira de Recifes de Coral, no Mar de Coral.

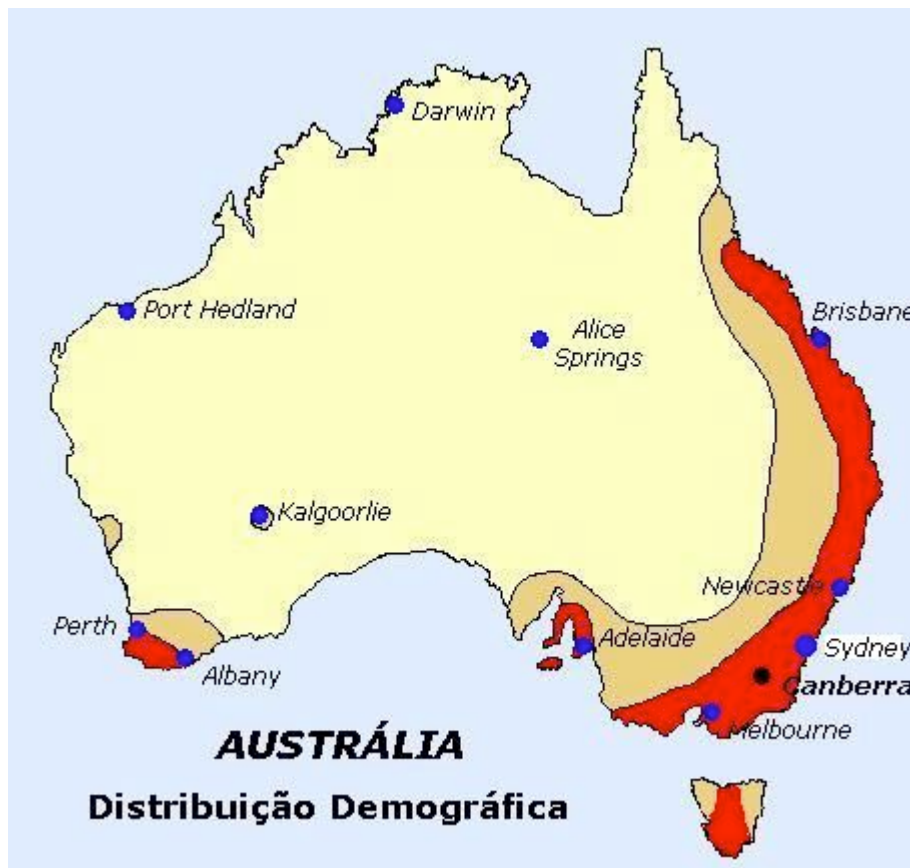




O sudeste do país é dominado por clima temperado oceânico e floresta temperada. No norte-nordeste, domina o clima tropical com florestas tropicais. No centro e oeste encontramos regiões desérticas e semi-áridas, com formações xerófitas e estepes e a presença de rios intermitentes. Os principais rios (Darling, Murray), perenes, são encontrados no sudeste do país. No sudoeste, clima e vegetação mediterrâneos.

A população do país não atinge 20 milhões de habitantes e sua densidade demográfica é muito baixa: 2,51 hab/Km². Essa população está concentrada no sudeste, área de clima mais moderado e de concentração das principais cidades e áreas industriais. Sydney é a maior cidade do país, mas a capital é Canberra. O país possui ampla maioria urbana, reduzido crescimento populacional e reduzidos índices de analfabetismo e mortalidade infantil. Possui um dos mais elevados IDH do mundo.

A população é de maioria branca de origem europeia. A Austrália também foi colônia britânica e o povoamento inicial utilizou o país como colônia penal. A população nativa dos aborígenes também foi amplamente dizimada, constituindo atualmente 1,5% da população. Durante as olimpíadas em Sydney iniciou-se um pedido público de desculpas pelo que foi cometido no passado contra essa população e, ao mesmo tempo, um processo de reconciliação e reconhecimento da importância e contribuição dos nativos.



A Austrália é um país de Primeiro Mundo com maior destaque para o setor terciário em sua economia (comércio e serviços). No setor primário destacam-se as extrações de minérios como o ferro (noroeste), o carvão, bauxita, além do petróleo, para o qual ainda não há auto-suficiência. O Mar da Tasmânia é uma importante bacia petrolífera e o Planalto Ocidental produz vários minérios.

No norte-nordeste são importantes os cultivos de clima tropical como é o caso da cana-de-açúcar. No sul e sudeste é importante a produção de cereais. A Austrália possui grande destaque com a pecuária sendo um tradicional exportador de produtos de origem animal. Os rebanhos mais importantes são os de bovinos e ovinos.

A Austrália é o país mais industrializado da Oceania. Seu parque industrial é diversificado apresentando indústrias de bens de consumo e de base, além de desenvolver tecnologias de ponta. São elevados os investimentos em pesquisas tecnológicas como por exemplo no ramo da biotecnologia. No desenvolvimento de seu setor industrial foram importantes os investimentos de capitais japoneses, britânicos e norte-americanos, os quais acabaram por criar um forte concorrente para seus próprios produtos industrializados no mercado do Pacífico.

A atividade turística complementa de maneira importante a economia desse país, com uma infraestrutura muito boa para seu desenvolvimento.

A Austrália também é membro da Comunidade Britânica de Nações e do bloco da APEC, comercializando especialmente com o Japão, Nova Zelândia, EUA, países europeus, tigres asiáticos e a China.

Economia da Austrália

Pecuária (bovinos e ovinos)
Agricultura (cereais, cana e frutas)
**Indústria (leves, siderurgia,
metalurgia e automobilística)**
Mineração (ferro, carvão, bauxita e petróleo)

Saiba mais na Internet

***Nauru:**

<http://www.klip.net/nauru/eostrut.html>

http://www.portalbrasil.eti.br/Oceania_Nauru.htm

***Pearl Harbour:**

http://www.mre.gov.br/acs/diplomacia/portg/h_diplom/ev005.htm

<http://www.tvcultura.com.br/aloescola/historia/cenasdoseculo/internacionais/roosevelt-franklindelano.htm>

***Atol de Bikini:**

<http://www.vol.eti.br/geo/Mostrapaisc.asp?Cod=87>

<http://www.almasurf.com.br/Arquivo%20AS/Bikini/bikini.htm>

***Atol de Mururoa:**

<http://www.estadao.com.br/ext/diariodopassado/20020408/000182806.htm>

<http://www.energiatomica.hpg.iq.com.br/geo.html>

***Polinésia Francesa:**

<http://www.vol.eti.br/geo/Mostraterritoriosc.asp?Cod=39>

Exercícios

1- (GV) A Austrália, situada no hemisfério sul do globo, caracteriza-se por:

- a) ser um país tipicamente equatorial com economia baseada em recursos primários
- b) apresentar população rural reduzida e centros urbanos concentrados no Sudeste do país
- c) ter um território em sua maior parte desértico e população com renda "per capita" baixa
- d) possuir 40% do seu território recoberto por florestas tropicais e importantes indústrias de transformação
- e) apresentar plataforma continental ampla e destacada exportação de petróleo.

2- (VUNESP) Assinale a alternativa que indica corretamente as principais características da população australiana:

- a) predominantemente branca, numerosa e bem distribuída no espaço
- b) de origem ameríndia, rural, com altas taxas de natalidade
- c) predominantemente branca, urbana, com elevada esperança de vida

- d) de origem britânica, urbana, com altas taxas de mortalidade infantil
- e) de origem americana, numerosa e concentrada na porção centro-norte do país.

3- Assinale a alternativa correta sobre a região da Oceania:

- a) é um continente formado por milhares de ilhas entre o Atlântico e o Pacífico
- b) possui muitas dependências estrangeiras com destaque para o Havaí, Estado pertencente ao Japão
- c) sua população apresenta o melhor padrão de vida do mundo pois a maioria dos países dessa região é de Primeiro Mundo
- d) as atividades turísticas são importantes nessa região e o maior parque industrial é encontrado na Austrália
- e) apresenta sérios problemas políticos na Austrália com etnias que desejam o separatismo e causam conflitos constantes.

4- Qual alternativa abaixo apresenta a correlação correta?

- a) Nova Zelândia – realiza testes nucleares no Atol de Bikini
- b) Austrália – exportadora de minérios e produtos agropecuários
- c) Nauru – sua riqueza provém das ricas jazidas de petróleo
- d) Papua Nova Guiné – foi colônia do Japão e deseja se unificar com a Indonésia
- e) Polinésia Francesa – tem sido utilizada como colônia penal da França, o que gera protestos da população local preocupada com o aumento da violência urbana.

5- Especifique a importância do arquipélago do Havaí na região do Pacífico norte:

Respostas dos exercícios

1 – B

2 – C

3 – D

4 – B

5 – O arquipélago do Havaí é um Estado norte-americano produtor de gêneros tropicais. Desenvolve importante atividade turística e tem valor estratégico pois tem uma base aeronaval dos EUA em seu território (Pearl Harbour) servindo como um porta-aviões fixo no meio do Pacífico.